

## Εβδομαδιαίο φύλλο ασκήσεων 1

## Ερώτηση 1

Η ημερομηνία 5/5/2015 περιέχει τρία 5 στη γραφή της. Ποια είναι η επόμενη φορά που μια ημερομηνία θα περιέχει τρία 5;


- A) 5/5/2025      B) 15/6/2055  
Γ) 15/5/2050      Δ) 25/5/2015  
E) 15/5/2015



## Ερώτηση 2

Η πασχαλίτσα θέλει να πάει στο λουλούδι που έχει 5 πέταλα και 3 φύλλα. Σε ποιο λουλούδι θα πάει;


- A)                  B)                  Γ)                  Δ)                  E)



## Ερώτηση 3

Ένα τετράγωνο αποτελείται από 25 μικρά τετράγωνα. Μερικά από τα μικρά τετράγωνα έσβησαν. Έμεινε το σχήμα που δείχνει η εικόνα. Πόσα μικρά τετράγωνα έσβησαν;

- A) 6                  B) 7                  Γ) 8                  Δ) 10                  E) 12



Η Γνώση με τρόπο απλό και κατανοητό!

### Ερώτηση 4

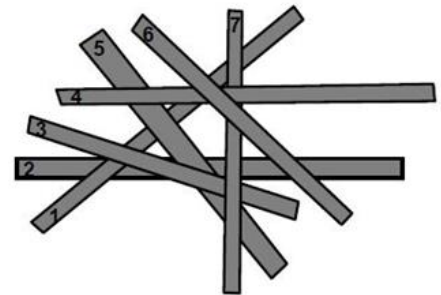
Ένα μυρμήγκι περπατάει πάνω στον σπάγκο. Με ποια σειρά θα συναντήσει τα σχήματα;



- A) ▲ ■ ●
- B) ▲ ● ■
- Γ) ● ▲ ■
- Δ) ■ ▲ ●
- Ε) ■ ● ▲

### Ερώτηση 5

Επτά ξυλάκια είναι το ένα πάνω στο άλλο. Το ξυλάκι με το νούμερο 2 είναι στον πάτο και ξυλάκι με το νούμερο 6 είναι το πιο πάνω. Ποιο ξυλάκι είναι στη μέση;



- A) 1
- B) 3
- Γ) 4
- Δ) 5
- Ε) 7

### Ερώτηση 6

Ποια είναι η σκιά του κοριτσιού της εικόνας δεξιά;



- A)
- B)
- Γ)
- Δ)
- Ε)




Η Γνώση με τρόπο απλό και κατανοητό!

### Ερώτηση 7

Πόσα τρίγωνα υπάρχουν στη ζωγραφιά της κούκλας;


- A) 7      B) 6      Γ) 5      Δ) 4      E) 3



### Ερώτηση 8

Πόσες κουκκίδες σαν την • έχουν όλες μαζί οι πέντε πασχαλίτσες;

- A) 17      B) 18      Γ) 19      Δ) 20  
E) 21



### Ερώτηση 9

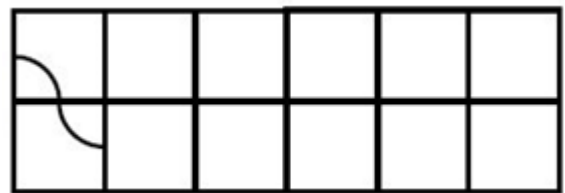
Μερικοί πειρατές βρίσκονται στη σειρά, ο ένας πίσω από τον άλλο. Ο αρχηγός τους είναι ακριβώς στη μέση της σειράς αλλά επίσης είναι ο όγδοος στη σειρά. Πόσοι είναι όλοι μαζί οι πειρατές;

- A) 7      B) 8      Γ) 12      Δ) 15      E) 16



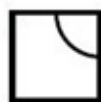
### Ερώτηση 10

Ο μάστορας έφτιαξε μία συνεχόμενη γραμμή τοποθετώντας πλακάκια στο πάτωμα (δεξιά εικόνα). Τα πλακάκια είναι σαν το εικονιζόμενο



αριστερά. Η αρχή της γραμμής φαίνεται στο σχέδιο δεξιά. Πως είναι τοποθετημένο το πλακάκι στο τέλος της γραμμής;

- A)      B)      Γ)      Δ)      E) δεν μπορούμε να ξέρουμε



Η Γνώση με τρόπο απλό και κατανοητό!

### Ερώτηση 11

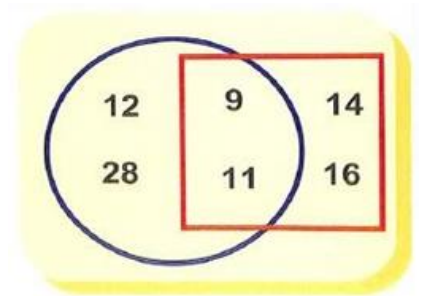
Οι 12 θεοί του Ολύμπου στέκονται σε μία σειρά. Μπροστά από τον Απόλλωνα στέκονται 7 θεοί. Ο Ερμής στέκεται ακριβώς πίσω από τον Απόλλωνα. Πόσοι θεοί στέκονται πίσω από τον Ερμή;

- A) 2      B) 3      Γ) 4      Δ) 5      E) 6

### Ερώτηση 12

Πόσο είναι το άθροισμα των αριθμών μέσα στον κύκλο αλλά έξω από το τετράγωνο;

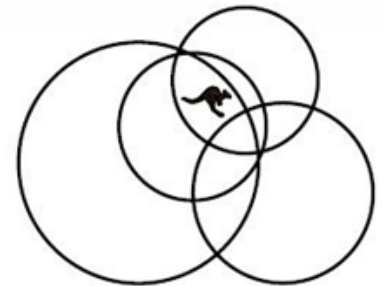
- A) 10      B) 20      Γ) 30      Δ) 35      E) 40



### Ερώτηση 13

Μέσα σε πόσους κύκλους βρίσκεται το καγκουρό  ;

- A) 1      B) 2      Γ) 3      Δ) 4      E) 5



### Ερώτηση 14

Κόψαμε με το ψαλίδι ένα ορθογώνιο παραλληλόγραμμο σε δυο κομμάτια. Το ένα κομμάτι φαίνεται δεξιά με γκρι χρώμα. Ποιο είναι το άλλο κομμάτι;



- A)      B)      Γ)      Δ)      E)



Η Γνώση με τρόπο απλό και κατανοητό!