



Εβδομαδιαίο φύλλο ασκήσεων 4

Ερώτηση 1

Έχουμε ένα 5 x 5 τετράγωνο από το οποίο έχει αφαιρεθεί το τετραγωνάκι στο κέντρο. Το υπόλοιπο κόβεται σε ολόδια κομμάτια. Ποιο από τα παρακάτω σχήματα αποκλείεται να είναι ένα από τα ολόδια κομμάτια;

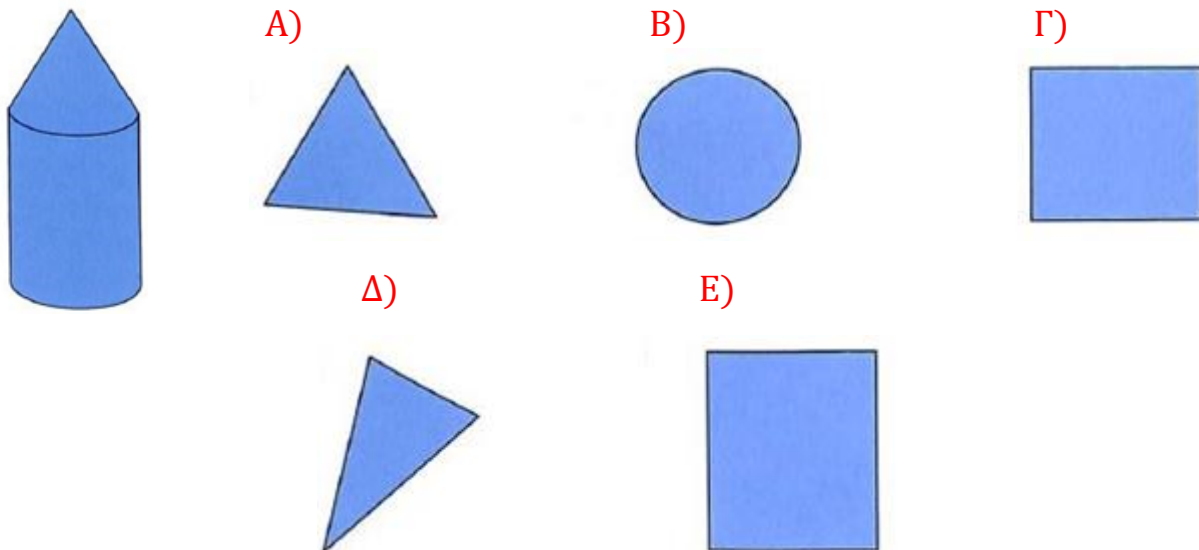


- A) B) Γ) Δ) Ε)



Ερώτηση 2

Αν κοιτάξουμε από πάνω τον πύργο της εικόνας αριστερά, τι θα δούμε;

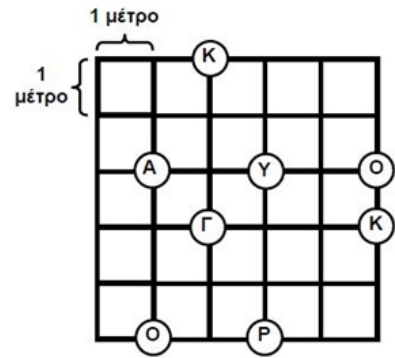


Η Γνώση με τρόπο απλό και κατανοητό!

Ερώτηση 3

Πήγαινε από το Κ μέχρι το Ο περπατώντας πάνω στις γραμμές των τετραγώνων και μαζεύοντας τα γράμματα της λέξης ΚΑΓΚΟΥΡΟ, με τη σωστή σειρά. Πόσο είναι το μήκος της μικρότερης διαδρομής που μπορείς να κάνεις;

- Α) 14 μέτρα Β) 15 μέτρα Γ) 16 μέτρα
 Δ) 17 μέτρα Ε) 18 μέτρα



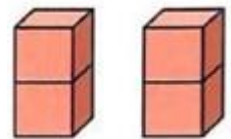
Ερώτηση 4

Ο Κούνελος λατρεύει τα καρότα και τα λάχανα. Κάθε μέρα είτε τρώει 10 καρότα, είτε τρώει 2 λάχανα. Την περασμένη βδομάδα έφαγε συνολικά 6 λάχανα. Πόσα καρότα έφαγε την περασμένη βδομάδα;

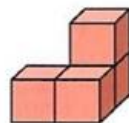
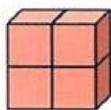
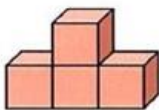
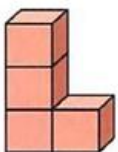
- Α) 20 Β) 30 Γ) 34 Δ) 40 Ε) 50

Ερώτηση 5

Ένα παιδί έχει δύο τούβλα όπως στην εικόνα δεξιά. Κάθε τούβλο είναι σαν δύο κύβοι ενωμένοι. Ποιο από τα παρακάτω σχήματα δεν μπορεί να φτιάξει με τα δύο τούβλα;



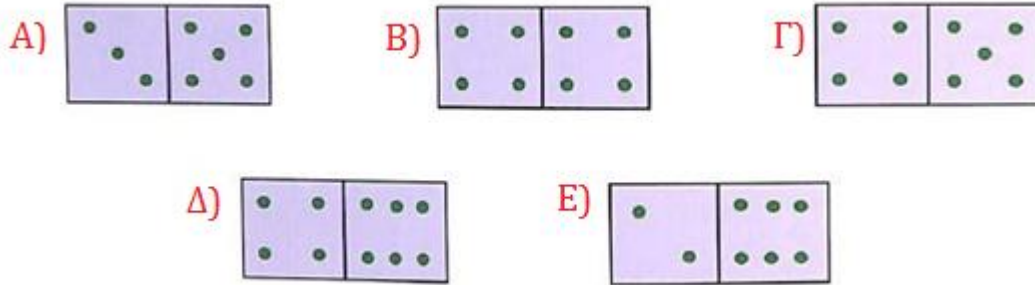
- Α) Β) Γ) Δ) Ε)



Η Γνώση με τρόπο απλό και κατανοητό!

Ερώτηση 6

Ποιο ντόμινο έχει περισσότερες από οκτώ αλλά λιγότερες από δέκα κουκκίδες;



Ερώτηση 7

Πόσοι σπάγκοι υπάρχουν στην εικόνα;

- A) 2 B) 3 Γ) 4 Δ) 5
E) 6



Ερώτηση 8

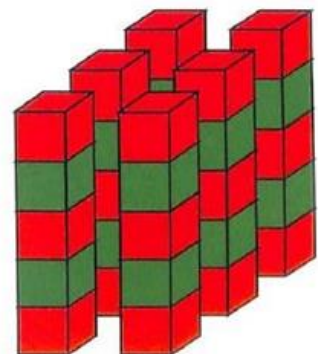
Στη τάξη υπάρχουν 10 μαθητές. Οι 6 έχουν από 2 βιβλία στην τσάντα τους. Οι υπόλοιποι έχουν από 3 βιβλία στην τσάντα τους. Πόσα είναι όλα μαζί τα βιβλία που έχουν στις τσάντες τους οι μαθητές;

- A) 12 B) 15 Γ) 24 Δ) 32
E) κανένα από τα προηγούμενα

Ερώτηση 9

Έξι ολόιδιοι πύργοι είναι φτιαγμένοι από κόκκινους και από πράσινους κύβους, όπως στην εικόνα. Πόσοι είναι όλοι μαζί οι πράσινοι κύβοι;

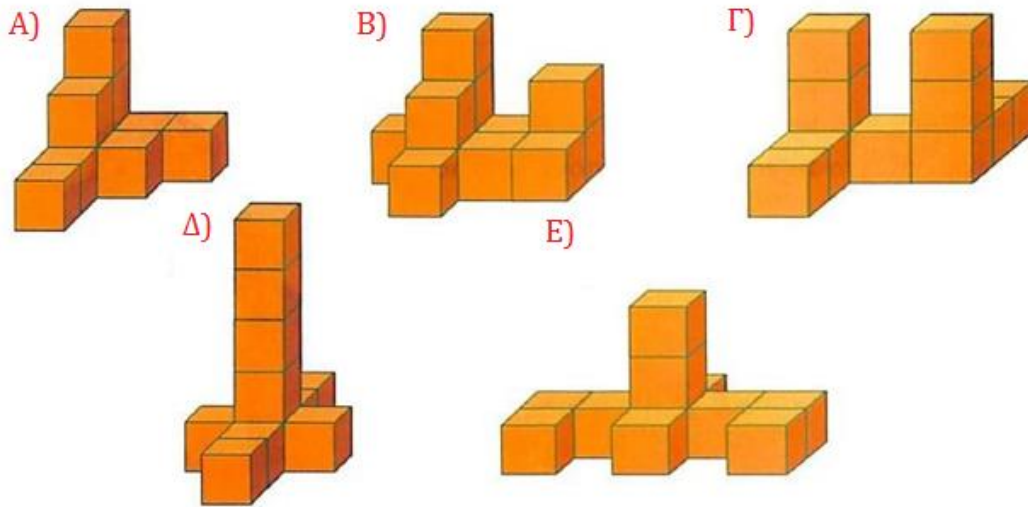
- A) 10 B) 11 Γ) 12 Δ) 18 E) 30



Η Γνώση με τρόπο απλό και κατανοητό!

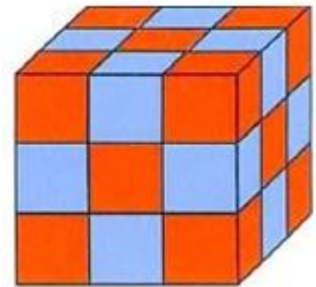
Ερώτηση 10

Ποιο από τα σχήματα μπορούμε να φτιάξουμε με 10 μικρούς κύβους;



Ερώτηση 11

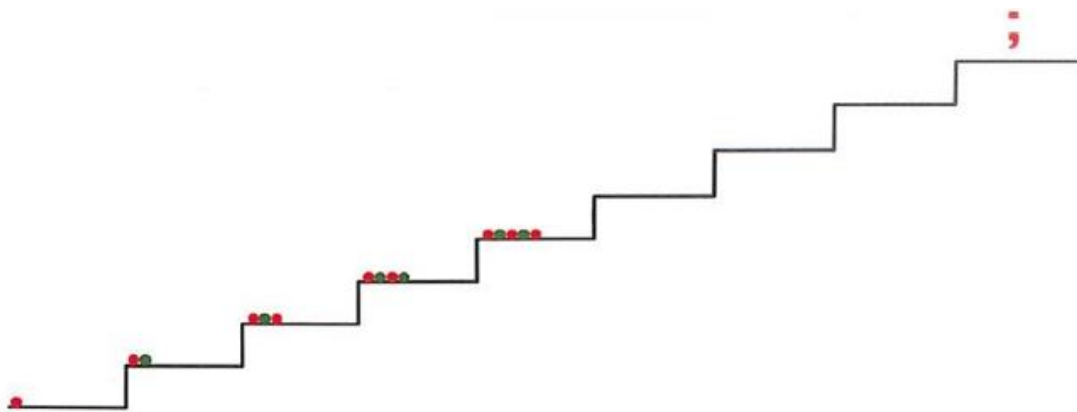
Ο μάστορας έφτιαξε έναν κύβο από μικρά κόκκινα και γαλάζια κυβάκια, όπως στην εικόνα. Κυβάκια με το ίδιο χρώμα δεν ακουμπάνε μεταξύ τους πλευρά με πλευρά. Πόσα είναι τα γαλάζια κυβάκια;



- A) 10 B) 12 Γ) 13 Δ) 14 E) 15

Ερώτηση 12

Η Αθηνά έβαλε μπίλιες στα σκαλοπάτια ακολουθώντας το μοτίβο που δείχνει η εικόνα. Πως έβαλε τις μπίλιες στο σκαλοπάτι με το ερωτηματικό;



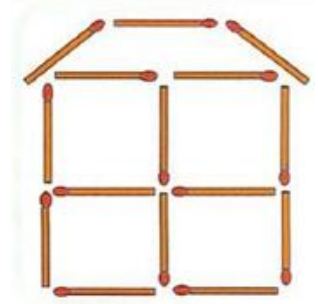
- A) ●●●●●●●● B) ●●●●●●●● Γ) ●●●●●●●● Δ) ●●●●●●●● E) ●●●●●●●●

Η Γνώση με τρόπο απλό και κατανοητό!

Ερώτηση 13

Πόσα σπέρτα φαίνονται στην εικόνα;

- A) 19 B) 18 Γ) 17 Δ) 15 E) 13



Ερώτηση 14

Ποιο από τα παρακάτω σχήματα **δεν** μπορούμε να φτιάξουμε χρησιμοποιώντας και τα έξι σχήματα δεξιά;



- A) B) Γ) Δ) E)

