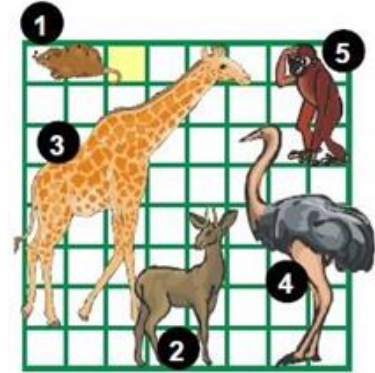


Ας μπούμε στη σειρά.....

Ερώτηση 1

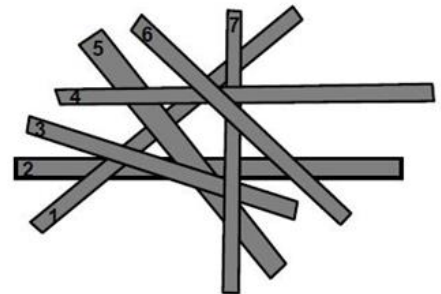
Τα ζώα μπήκαν σε μια σειρά από το πιο μικρό μέχρι το πιο μεγάλο. Ποιο ζώο είναι στη μέση της σειράς;

- A) το 1 B) το 2 Γ) το 3
 Δ) το 4 E) το 5


Ερώτηση 2

Επτά ξυλάκια είναι το ένα πάνω στο άλλο. Το ξυλάκι με το νούμερο 2 είναι στον πάτο και ξυλάκι με το νούμερο 6 είναι το πιο πάνω. Ποιο ξυλάκι είναι στη μέση;

- A) 1 B) 3 Γ) 4 Δ) 5 E) 7


Ερώτηση 3

Η ημερομηνία 5/5/2015 περιέχει τρία 5 στη γραφή της. Ποια είναι η επόμενη φορά που μια ημερομηνία θα περιέχει τρία 5;

- A) 5/5/2025 B) 15/6/2055
 Γ) 15/5/2050 Δ) 25/5/2015
 E) 15/5/2015


Ερώτηση 4

Μερικοί πειρατές βρίσκονται στη σειρά, ο ένας πίσω από τον άλλο. Ο αρχηγός τους είναι ακριβώς στη μέση της σειράς αλλά επίσης είναι ο όγδοος στη σειρά. Πόσοι είναι όλοι μαζί οι πειρατές;

- A) 7 B) 8 Γ) 12 Δ) 15 E) 16



Η Γνώση με τρόπο απλό και κατανοητό!

Ερώτηση 5

Τα σπίτια σε ένα δρόμο είναι αριθμημένα με



τη σειρά από τον αριθμό 25 μέχρι και τον 57. Πόσα σπίτια έχει ο δρόμος;

- A) 31 B) 32 Γ) 33 Δ) 34 E) 35

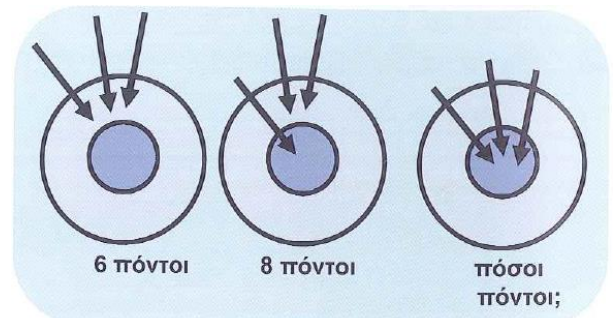
Ερώτηση 6

Σε μία οικογένεια υπάρχουν 5 παιδιά. Από αυτά η Καίτη είναι 2 χρόνια μεγαλύτερη από τη Βάσω αλλά 2 χρόνια μικρότερη από τον Δημήτρη. Ο Τάσος είναι 3 χρόνια μεγαλύτερος από την Άννα. Η Βάσω και η Άννα είναι δίδυμες. Ποιο παιδί είναι το πιο μεγάλο;

- A) η Άννα B) η Βάσω Γ) ο Δημήτρης Δ) η Καίτη E) ο Τάσος

Ερώτηση 7

Η Άρτεμις έριξε τα τρία βέλη της στον στόχο. Την πρώτη φορά πήρε 6 πόντους, όπως στην αριστερή εικόνα. Την δεύτερη φορά πήρε 8 πόντους, όπως στην μεσαία εικόνα. Πόσους πόντους πήρε την τρίτη φορά;



- A) 8 B) 10 Γ) 12
Δ) 14 E) 16

Ερώτηση 8

Οι 12 θεοί του Ολύμπου στέκονται σε μία σειρά. Μπροστά από τον Απόλλωνα στέκονται 7 θεοί. Ο Ερμής στέκεται ακριβώς πίσω από τον Απόλλωνα. Πόσοι θεοί στέκονται πίσω από τον Ερμή;

- A) 2 B) 3 Γ) 4 Δ) 5 E) 6