

Οι ήπειροι

Η Ευρώπη

5ο φύλλο αξιολόγησης

1. Απαντήστε στις παρακάτω ερωτήσεις:

α) Γιατί η Ευρώπη θεωρείται «το σταυροδρόμι των τριών ηπείρων»;

.....
.....

β) Πώς διαμορφώθηκαν τα φιόρδ της Νορβηγίας;

.....
.....

γ) Ποιοι είναι οι δύο μεγαλύτεροι ποταμοί της Ευρώπης;

.....
.....

δ) Γιατί όλα τα κράτη της Ευρώπης δεν είναι το ίδιο ανεπτυγμένα οικονομικά και τεχνολογικά;

.....
.....

2. Γράψτε τις πρωτεύουσες των παρακάτω κρατών της Ευρώπης:

Κράτη	Πρωτεύουσες
Ιταλία
Ισπανία
Γερμανία
Ηνωμένο Βασίλειο
Δανία

3. Αντιστοιχίστε ενέργειες και αποτελέσματα.

Μεγάλες εφευρέσεις και ανακαλύψεις	Οικονομική και κοινωνική πρόοδος
Έκρηξη πολέμου	Τεχνολογική επανάσταση
Συνεργασία των λαών	Ενίσχυση της οικονομίας
Εφαρμογή νέων τεχνολογιών	Δεινά και καταστροφή
Εξαγωγικό εμπόριο	Αύξηση παραγόμενων προϊόντων



Η θέρση και το φυσικό περιβάλλον της Ασίας

Δραστηριότητες

1. Συμπλήρωσε το παρακάτω κείμενο με τις λέξεις που λείπουν:

Η Ασία έχει πλούσιο και ποικιλόμορφο _____. Η μεγαλύτερη οροσειρά της Ασίας αλλά και ολόκληρου του πλανήτη είναι αυτή των _____ με υψηλότερη κορυφή το _____. Ο μεγαλύτερος ποταμός της ηπείρου είναι ο _____ και η μεγαλύτερη λίμνη είναι η _____, η οποία βρίσκεται στα σύνορα της Ασίας με την _____. Η δεύτερη μεγάλη λίμνη είναι η _____ με νερά _____. Χαρακτηριστικό είδος της ασιατικής ερήμου είναι η _____ καμήλα, η οποία φέρει δύο καμπούρες. Το οροπέδιο του _____ είναι το μεγαλύτερο στον κόσμο. Εδώ ζει ένα βοοειδές που λέγεται _____ και του οποίου η κοπριά χρησιμοποιείται ως καύσιμη ύλη.

2. Μελέτησε προσεκτικά τον χάρτη της Ασίας που υπάρχει στο βιβλίο σου και απάντησε στις παρακάτω ερωτήσεις:

α) Ποιος μεγάλος ποταμός διαρρέει τις πεδιάδες της Ινδίας;

.....

β) Ποιες είναι οι δύο μεγάλες οροσειρές ανάμεσα στις οποίες εκτείνεται το οροπέδιο του Θιβέτ;

.....

γ) Ποιο είναι το μεγαλύτερο νησί στα ανατολικά της Ασίας;

.....

δ) Ποιες είναι οι τέσσερις μεγαλύτερες λίμνες της Ασίας;

.....

ε) Γιατί οι ποταμοί στη Βόρεια Ασία δεν επηρεάζουν σημαντικά τη ζωή των ανθρώπων;

.....

.....

.....

Τα κράτη της Ασίας

Δραστηριότητες

1. Ποιες από τις παρακάτω προτάσεις είναι σωστές και ποιες λανθασμένες;

Γράψε «Σ» για τη σωστή και «Λ» για τη λανθασμένη στο

- α) Τα κράτη της Μέσης Ανατολής έχουν υπέδαφος πλούσιο σε κοιτάσματα πετρελαίου
- β) Η Σιβηρία είναι η πιο πυκνοκατοικημένη περιοχή της Ασίας
- γ) Η Νοτιοανατολική Ασία λέγεται και Ινδική Χερσόνησος
- δ) Η Σιγκαπούρη είναι αρκετά ανεπτυγμένο οικονομικά κράτος
- ε) Η πρωτεύουσα της Ιαπωνίας είναι το Τόκιο

2. Η Ινδία είναι μία χώρα με άφθονους φυσικούς πόρους. Ωστόσο το βιοτικό επίπεδο των κατοίκων της είναι πολύ χαμηλό. Ποιοι είναι οι λόγοι για τους οποίους συμβαίνει αυτό;

.....

.....

.....

.....

.....

.....

3. Συμπλήρωσε την ακροστιχίδα της λέξης «Ιμαλία».

- | | |
|-------------------|--|
| I _ _ _ | Πρωτεύουσά του είναι η Τεχεράνη |
| M _ _ _ _ _ _ _ _ | Κράτος της Ινδικής Χερσονήσου στον κόλπο της Βεγγάλης |
| A _ _ _ _ _ | Σε αυτήν τη θάλασσα εκβάλλει ο Ινδός ποταμός |
| Λ _ _ _ | Κράτος της Νοτιοανατολικής Ασίας |
| A _ _ _ _ _ | Οροσειρά της Κεντρικής Ασίας |
| İ _ _ _ _ _ | Ένα από τα πλουσιότερα κράτη του κόσμου |
| A _ _ _ _ _ _ _ _ | Τα κράτη της Νοτιοανατολικής Ασίας την απέκτησαν κατά τη δεκαετία του 1950 |

4. Το μεγάλο Σινικό Τείχος κτίστηκε για να προστατεύει την Κίνα από τις επιδρομές των εχθρών. Συγκέντρωσε πληροφορίες για την εποχή της δημιουργίας του, το μήκος του, την αντοχή του ή ό,τι άλλο νομίζεις εσύ ότι προκαλεί τον θαυμασμό μας. Βρες μία φωτογραφία του Σινικού Τείχους και τοποθέτησέ την στο πλαίσιο.

.....

.....

.....

.....

.....


.....

.....

.....

.....

.....



Οι κάτοικοι της Ασίας

Δραστηριότητες

1. Διάγραψε την πρόταση που νομίζεις ότι είναι λανθασμένη.

- α) Οι κάτοικοι της Ασίας ανήκουν στην κίτρινη και στη μαύρη φυλή.
- β) Η πυκνότητα του πληθυσμού δεν είναι ίδια σε όλες τις περιοχές της Ασίας.
- γ) Τα κοινά χαρακτηριστικά των λαών της Μέσης Ανατολής είναι η αραβική γλώσσα και η μουσουλμανική θρησκεία.
- δ) Οι Ινδοί ως επίσημη γλώσσα έχουν την ινδική.
- ε) Οι λαοί της Βόρειας Ασίας έχουν αναπτύξει σε μεγάλο βαθμό τη γεωργία και την κτηνοτροφία.

2. Βρες πολιτιστικά στοιχεία (ενδυμασία, μαγειρική, μουσική, αρχιτεκτονική κ.ά.) στην πόλη σου, τα οποία δείχνουν την επιρροή διαφόρων πολιτισμών – αραβικού, κινεζικού και άλλων – και γράψε τα στις σειρές που ακολουθούν.

.....

.....

.....

.....

.....

3. Αντιστοίχισε χαρακτηριστικά και λαούς:

Χαρακτηριστικά

Κίτρινη φυλή
Υψηλό οικονομικό επίπεδο
14 επίσημες γλώσσες
Μογγολική καταγωγή
Ανεπτυγμένη βιομηχανία και εμπόριο
Μουσουλμανική θρησκεία
Σκληρές περιβαλλοντικές συνθήκες
Χρήση της πυρίτιδας

Λαοί

Ιάπωνες
Λαοί Κεντρικής Ασίας
Κινέζοι
Πακιστανοί
Ινδοί
Λαοί της Βόρειας Ασίας
Κινέζοι
Ιάπωνες

4. Τον Αύγουστο του 1945 σήμανε το τέλος του Β΄ Παγκοσμίου Πολέμου με την καταστροφή της Χιροσίμα και του Ναγκασάκι. Ολόκληρη η ανθρωπότητα συγκλονίστηκε. Κανένας δεν περίμενε τι θα προκαλέσουν οι ατομικές βόμβες. Για πολλά χρόνια μετά τη ρίψη τους γεννιόνταν παιδιά άρρωστα ή παραμορφωμένα. Κάθε χρόνο στη Χιροσίμα οργανώνεται εκδήλωση για την ειρήνη και όλοι ζητούν να σταματήσουν πια οι πόλεμοι.

➤ Γιατί συγκλονίστηκε η ανθρωπότητα με την καταστροφή των δύο πόλεων;

.....

.....

.....

.....

.....

.....

➤ Ποιο είναι το μήνυμα που μας δίνουν τα γεγονότα αυτά;

.....

.....

.....

.....

.....

.....

.....

Η Ασία

6ο φύλλο αξιολόγησης

1. Απαντήστε στις παρακάτω ερωτήσεις:

α) Ποια είναι η μεγαλύτερη οροσειρά, ο μεγαλύτερος ποταμός και η μεγαλύτερη λίμνη της Ασίας;

.....

.....

β) Γιατί η Μέση Ανατολή χαρακτηρίζεται ως περιοχή με συνεχείς εντάσεις;

.....

.....

γ) Γιατί χωρίζουμε την Ασία σε τμήματα για να την εξετάσουμε;

.....

.....

2. Αντιστοιχίστε τμήματα και κράτη:

Τμήματα

Μέση Ανατολή

Νότια Ασία

Ανατολική Ασία

Νοτιοανατολική Ασία

Κράτη

Ιαπωνία

Τουρκία

Σιγκαπούρη

Ινδία

3. Συμπληρώστε το κείμενο με τις λέξεις που λείπουν:

Η Ασία είναι η ήπειρος στην οποία συναντάμε σχεδόν όλες τις _____ του κόσμου. Εδώ έχουν εξαπλωθεί όλες οι μεγάλες _____ και ομιλούνται εκατοντάδες _____. Οι κάτοικοι του Αφγανιστάν, του Πακιστάν και του Μπαγκλαντές είναι (ως προς το θρήσκευμα) _____. Οι Κινέζοι ανήκουν στην _____ φυλή και οι κυριότερες θρησκείες τους είναι ο _____, ο _____ και ο _____. Το πολιτιστικό επίπεδο των Ιαπώνων είναι _____. Οι Ιάπωνες θεωρούνται από τους πιο _____ ανθρώπους στον κόσμο. Οι λαοί της Κεντρικής Ασίας είναι κυρίως _____ καταγωγής. Το βιοτικό επίπεδό τους είναι _____. Η Κεντρική Ασία είναι αραιοκατοικημένη εξαιτίας της _____ του εδάφους.



Η θέση και το φυσικό περιβάλλον της Αφρικής

Δραστηριότητες



1. Απάντησε στις παρακάτω ερωτήσεις:

α) Σε ποια κλιματική ζώνη βρίσκεται το μεγαλύτερο μέρος της Αφρικής;

.....

β) Ποιο είναι το υψηλότερο όρος της Αφρικής;

.....

γ) Γιατί ο ορυκτός πλούτος της Αφρικής παραμένει σε μεγάλο βαθμό αναξιοποίητος;

.....

.....

δ) Γιατί η Αφρική θεωρείται ότι είναι η πιο αραιοκατοικημένη ήπειρος;

.....

.....

ε) Πώς θα χαρακτήριζες τον οριζόντιο διαμελισμό της Αφρικής;

.....



2. Το σχολείο σας έχει αδελφοποιηθεί με ένα σχολείο της Αλεξάνδρειας. Εσείς ως μαθητές της Στ' τάξης θα κάνετε ένα ταξίδι το καλοκαίρι, για να γνωριστείτε με τους Αιγύπτιους συμμαθητές σας. Θα έχετε την ευκαιρία επίσης να γνωρίσετε μερικά από τα αξιοθέατα της χώρας. Εσύ τι θα προτιμούσες περισσότερο να επισκεφτείς και γιατί;

.....

.....

.....

.....

.....

.....

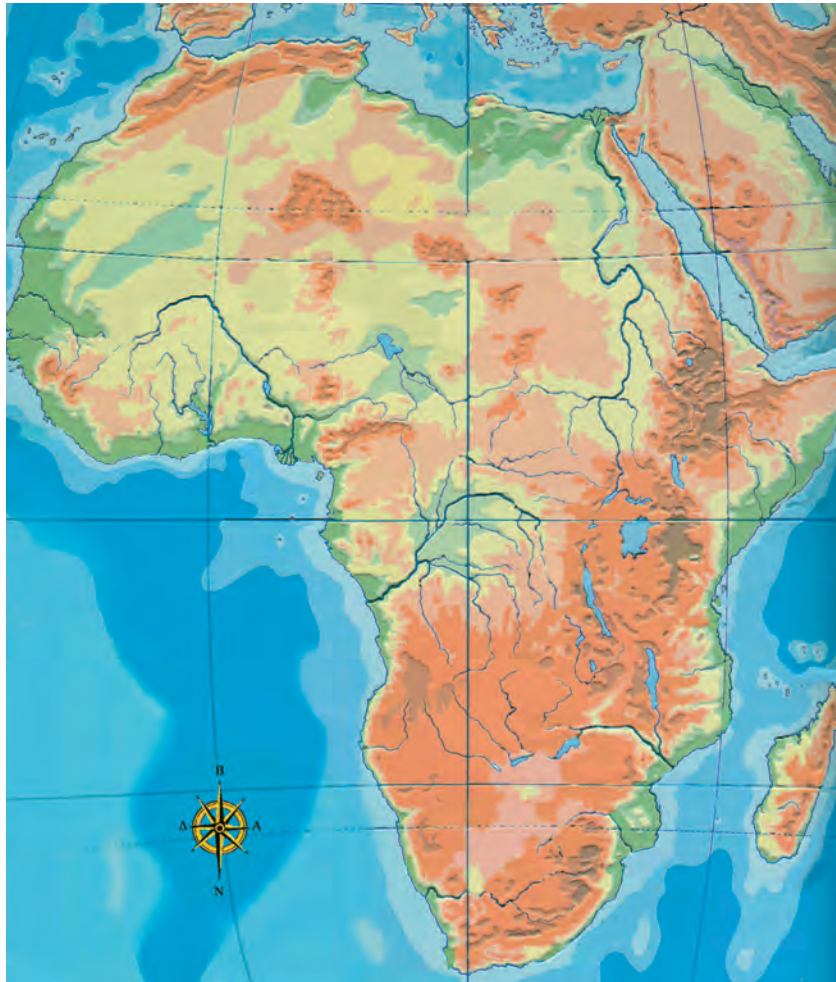
.....

.....

.....

.....

3. Στον χάρτη της Αφρικής που ακολουθεί γράψε τα ονόματα των μεγαλύτερων ποταμών, λιμνών και οροσειρών. Επίσης κατάγραψε και τις θάλασσες, από τις οποίες βρέχεται η ήπειρος.



Εικόνα 37.1 Γεωμορφολογικός χάρτης της Αφρικής

4. Λύσε την ακροστιχίδα της λέξης «Νείλος».

N _____

Πρωτεύουσα της Κένυας

E _____

Είναι η Σαχάρα

I _____

«Πάνω» σε αυτόν βρίσκεται η λίμνη Βικτόρια (Ονομαστική)

Λ _____

Είναι και η Τσαντ

O _____

Μετάλλευμα του υπεδάφους της Αφρικής

Σ _____

Η διώρυγα που ενώνει τη Μεσόγειο με την Ερυθρά Θάλασσα

Οι κάτοικοι και τα κράτη της Αφρικής

Δραστηριότητες

1. Αντιστοίχισε τις φράσεις του γαλάζιου πλαισίου με τις φράσεις του ροζ πλαισίου.

Βόρεια Αφρική
Ιερογλυφική γραφή
Νότια Αφρική
Πάπυροι ανεκτίμητης αξίας
Νομάδες βεδουίνοι

Φυλετικές διακρίσεις
Βιβλιοθήκη Αλεξάνδρειας
Λευκή φυλή
Έρημος Σαχάρα
Αιγυπτιακός λαός

2. Η πολιτική των φυλετικών διακρίσεων, η πολιτική του apartheid όπως ονομάζεται, βασίστηκε στην καταπίεση των μαύρων και στην καταπάτηση των ανθρωπίνων δικαιωμάτων. Ο Οργανισμός Ηνωμένων Εθνών και η διεθνής κοινότητα καταδίκασαν την πολιτική αυτή. Γράψε κι εσύ ένα κείμενο, με το οποίο θα συμμετάσχεις στον αγώνα κατά του apartheid.

.....


.....

.....

.....

.....

3. Λύσε το σταυρόλεξο, αφού έχεις διαβάσει τα Κεφάλαια 37 και 38 του σχολικού βιβλίου.



ΟΡΙΖΟΝΤΙΑ

1. Γραφή των αρχαίων Αιγυπτίων
3. Την ασκεί το καθεστώς καταπίεσης των ανθρώπων
7. Η Αφρική έχει ηφαιστειογενή ...
8. Κράτος της Αφρικής
9. Πρωτεύουσά της είναι η Λουάντα
10. Είναι η Μαδαγασκάρη

ΚΑΘΕΤΑ

2. Είναι και η Σαχάρα
4. Το υπέδαφος της Αφρικής είναι πλούσιο σε αυτά
- 6α. Μεσογειακό κράτος της Αφρικής
- 6β. Άλλο κράτος της Αφρικής (αντίστρ.)
8. Είναι γνωστό του Ασουάν
10. Έλληνας ποιητής που καταγόταν από την Αλεξάνδρεια

Η Αφρική

7ο φύλλο αξιολόγησης

1. Υπογραμμίστε τις σωστές προτάσεις.

- α) Το όρος Κένυα είναι ένα από τα ηφαιστειογενή όρη της Αφρικής.
- β) Οι κάτοικοι της Βόρειας Αφρικής ανήκουν όλοι στη μαύρη φυλή.
- γ) Τα κράτη της Κεντρικής Αφρικής είναι πυκνοκατοικημένα.
- δ) Τα αποικιοκρατικά καθεστώτα εμπόδισαν τους λαούς της Αφρικής να αναπτυχθούν οικονομικά.
- ε) Η έρημος Σαχάρα έχει υπέδαφος πλούσιο σε κοιτάσματα πετρελαίου.
- στ) Η Αφρική βρίσκεται ολόκληρη στο βόρειο ημισφαίριο της Γης.
- ζ) Η οροσειρά του Άτλαντα βρίσκεται στα βορειοανατολικά της ηπείρου.
- η) Το άρμα με τους τροχούς ήταν εφεύρεση των Αιγυπτίων.

2. Γράψτε στα αντίστοιχα τετράγωνα τρία όρη, τρεις ποταμούς και τρεις λίμνες της Αφρικής.

Όρη

Ποταμοί

Λίμνες

3. Σημειώστε «X» στο παραλληλόγραμμο των προτάσεων που δηλώνουν καταπάτηση των ανθρωπίνων δικαιωμάτων:

- α) Οι μαύροι κατοικούσαν σε διαφορετικές περιοχές
- β) Πολλοί Ευρωπαίοι μεταναστεύουν στη Νότια Αφρική, για να εργαστούν
- γ) Τα παιδιά των λευκών φοιτούσαν σε διαφορετικά σχολεία από τα παιδιά των μαύρων
- δ) Οι περισσότεροι εργάτες των ορυχείων ήταν μαύροι
- ε) Οι μαύροι δεν είχαν το δικαίωμα να ψηφίζουν στις εκλογές, ούτε βεβαίως και να ψηφίζονται



Καλή Επιτυχία!

Η θέση και το φυσικό περιβάλλον της Βόρειας Αμερικής

Δραστηριότητες

1. Ποιες από τις παρακάτω προτάσεις είναι σωστές και ποιες λανθασμένες;

Γράψε «Σ» για τη σωστή και «Λ» για τη λανθασμένη στο

- α) Μόνο ένα μικρό μέρος της Βόρειας Αμερικής εκτείνεται στην εύκρατη ζώνη
- β) Τα εδάφη της Αρκτικής ζώνης παρουσιάζουν έντονο οριζόντιο διαμελισμό
- γ) Το μεγαλύτερο ποτάμιο σύστημα στον κόσμο είναι το δίκτυο Μισούρι – Μισισσιπή
- δ) Οι περίφημοι καταρράκτες του Νιαγάρα είναι ένα σημαντικό αξιοθέατο των Ηνωμένων Πολιτειών της Αμερικής
- ε) Η πιο εύφορη μεγάλη πεδιάδα του κόσμου διαμορφώνεται από τα Βραχώδη όρη

2. Σύνδεσε τις πόλεις με τους ωκεανούς που τις περιβρέχουν:

Πόλεις

Σαν Φρανσίσκο
Βοστώνη
Λος Άντζελες
Νέα Υόρκη
Φιλαδέλφεια
Σαν Ντιέγκο

Ωκεανοί

Ατλαντικός
Ειρηνικός

3. Σημείωσε στον γεωμορφολογικό χάρτη τα Βραχώδη Όρη, τα Απαλάχια Όρη, τις λίμνες Σουπίριορ, Μίτσιγκαν και Χιούστον, καθώς και τους ποταμούς Μισισσιπή και Μισούρι.

4. Στον ίδιο χάρτη σημείωσε τους μεγαλύτερους κόλπους της Βόρειας Αμερικής.



Εικόνα 39.1: Γεωμορφολογικός χάρτης της Β. Αμερικής

Οι κάτοικοι της Βόρειας Αμερικής

Δραστηριότητες

1. Οι σημερινοί κάτοικοι της Βόρειας Αμερικής αποτελούν μία πολυπολιτισμική κοινωνία. Σκέψου και γράψε πώς όλοι αυτοί οι άνθρωποι καταφέρνουν και ζουν μαζί παρά τις διαφορές που παρουσιάζουν.

.....

.....

.....

.....

.....

2. Συμπλήρωσε τις παρακάτω προτάσεις με τις εξής λέξεις: ισότητα, Ευρωπαίοι, κοινωνία, ομογενείς, ισπανικά, ινδιάνοι.

- α)** Οι Έλληνες _____ διατηρούν τα ελληνικά ήθη και έθιμα.
- β)** Οι πρώτοι _____ που έφθασαν στην Αμερική ήταν Άγγλοι, Ιρλανδοί, Γάλλοι και Ισπανοί.
- γ)** Οι _____ της Βορειοκεντρικής Αμερικής υπολογίζεται ότι ανέρχονταν στα 30 ή 45 εκατομμύρια την εποχή που οι Ευρωπαίοι ήρθαν στον τόπο τους.
- δ)** Οι σημερινοί κάτοικοι της Αμερικής αποτελούν μία πολυπολιτισμική _____.
- ε)** Το Σύνταγμα του Καναδά και των Ηνωμένων Πολιτειών κατοχυρώνει την _____ ανάμεσα σε όλους τους πολίτες.
- στ)** Τα _____ ομιλούνται στο Μεξικό και στα περισσότερα κράτη της Κεντρικής Αμερικής.

3. Αντιστοίχισε τις λέξεις του παραλληλογράμμου **A** με τις λέξεις του παραλληλογράμμου **B**.

A
Ινδιάνοι
Σύνταγμα
1492
Άποικοι

B
Κολόμβος
Ιρλανδοί
Ιθαγενείς
Δικαιώματα

Τα κράτη της Βόρειας Αμερικής

Δραστηριότητες

1. Απάντησε στις ερωτήσεις που ακολουθούν:

α) Ποια είναι τα κράτη της Βόρειας Αμερικής;

.....

β) Ποιες είναι οι πρωτεύουσες των κρατών της Βόρειας Αμερικής;

.....

γ) Γιατί οι Ευρωπαίοι που έφθασαν στην Αμερική εξεδίωξαν και εκτόπισαν τους ντόπιους κατοίκους της περιοχής;

.....

.....

δ) Ποια κράτη περιλαμβάνει η Κεντρική Αμερική; (Μπορείς να βοηθηθείς από τον χάρτη).

.....

.....

2. Αντιστοίχισε κράτη και πρωτεύουσες:

Κράτη

Μεξικό

Ηνωμένες Πολιτείες Αμερικής

Καναδάς

Κούβα

Πρωτεύουσες

Οττάβα

Αβάνα

Πόλη Μεξικού

Ουάσινγκτον

3. Συμπλήρωσε την ακροστιχίδα της λέξης «ΑΠΑΤΣΙ».

Α _____

Οροσειρά της Βόρειας Αμερικής

Π _____

Οι Ηνωμένες της Αμερικής είναι 50

Α _____

Πρωτεύουσα της Κούβας

Τ _____

Μεγάλη πόλη του Καναδά

Σ _____

Μεγάλη πόλη νότια του Λος Άντζελες

Ι _____

Έτσι ονόμασε ο Κολόμβος τους κατοίκους της Βόρειας Αμερικής

Η Βόρεια Αμερική

8ο φύλλο αξιολόγησης

1. Συμπληρώστε το κείμενο με τις λέξεις που λείπουν:

Το βόρειο τμήμα της Βόρειας Αμερικής ανήκει στην _____ ζώνη. Τα εδάφη που εκτείνονται στην _____ ζώνη παρουσιάζουν έντονο οριζόντιο διαμελισμό. Το έδαφος της Βόρειας Αμερικής διασχίζεται από τα _____ όρη, τα οποία απλώνονται από την Αλάσκα μέχρι το _____. Το μεγαλύτερο ποτάμιο σύστημα του κόσμου είναι το δίκτυο _____ – _____. Τα νερά της λίμνης Ήρι, όταν εκβάλλουν στη λίμνη Οντάριο, σχηματίζουν τους περίφημους καταρράκτες του _____, που είναι ένα σημαντικό αξιοθέατο του _____.

2. Απαντήστε στις ακόλουθες ερωτήσεις:

α) Η αμερικανική σημαία έχει πενήντα αστέρια. Μπορείτε να πείτε γιατί;

.....

β) Πόσες είναι οι επίσημες γλώσσες που μιλούν οι κάτοικοι του Καναδά;

.....

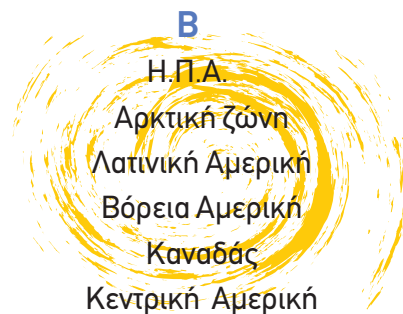
γ) Ποιες είναι οι δύο πολιτείες των Η.Π.Α. που βρίσκονται μακριά από την ηπειρωτική χώρα;

.....

δ) Σε ποια ζώνη εκτείνεται το βόρειο τμήμα της Βόρειας Αμερικής;

.....

3. Αντιστοιχίστε τα στοιχεία του κύκλου **A** με τα στοιχεία του κύκλου **B**:



3. Στον γεωμορφολογικό χάρτη που ακολουθεί γράψε πού θα συναντήσεις λιάνος, σέλβας και πάμπας. Σημείωσε και τα ονόματα των ποταμών που διασχίζουν τις περιοχές αυτές.



Εικόνα 42.1: Γεωμορφολογικός χάρτης της Ν. Αμερικής

4. Αντιστοιχίσε (με τη βοήθεια του χάρτη) τα κράτη της Νότιας Αμερικής με τις πρωτεύουσές τους.

Κράτη

Βραζιλία
Περού
Βολιβία
Κολομβία
Αργεντινή
Βενεζουέλα
Χιλή

Πρωτεύουσες

Σαντιάγκο
Μπογκοτά
Μπραζιλια
Λίμα
Καράκας
Μπουένος Άϊρες
Λα Παζ

Οι κάτοικοι και τα κράτη της Νότιας Αμερικής

Δραστηριότητες

1. Συμπλήρωσε το παρακάτω κείμενο με τις λέξεις που λείπουν:

Οι κάτοικοι της Νότιας Αμερικής κατάγονται κυρίως από _____ φυλετικές ομάδες: η πρώτη είναι των _____, που κατοικούσαν στην περιοχή πριν από την ανακάλυψη της ηπείρου. Η δεύτερη ομάδα είναι οι _____ (Ισπανοί και Πορτογάλοι), που ήλθαν ως κατακτητές. Η τρίτη ομάδα είναι οι _____, τους οποίους έφεραν οι άποικοι σαν σκλάβους, και η τέταρτη ομάδα είναι εκείνη των _____, που κατοίκησαν στη Ν. Αμερική μετά την ανεξαρτησία των χωρών της. Ο σημερινός πληθυσμός προέρχεται από την _____ των φυλών αυτών. Έχει συνδυάσει τα διαφορετικά _____ στοιχεία, τα ήθη, τα έθιμα και τις _____ κι έχει πλέον το δικό του _____.

2. Απάντησε με λίγα λόγια στις ερωτήσεις που ακολουθούν:

α) Γιατί η Νότια Αμερική λέγεται και Λατινική Αμερική;

.....

.....

.....

.....

.....

.....

β) Γιατί καθυστέρησε η οικονομική ανάπτυξη της Νότιας Αμερικής;

.....

.....

.....

.....

.....

3. Συμπλήρωσε την παρακάτω ακροστιχίδα. Τα αρχικά των λέξεων θα σχηματίσουν το όνομα μιας μεγάλης χώρας της Νότιας Αμερικής.

1. _____
2. _____
3. _____
4. _____
5. _____
6. _____
7. _____
8. _____
9. _____

1. Μεγάλη οροσειρά της Νότιας Αμερικής
2. Εκεί γίνεται το μεγαλύτερο καρναβάλι του κόσμου
3. Κράτος της Νότιας Αμερικής γνωστό για το οροπέδιό της
4. Πρωτεύουσά του είναι το Κίτο
5. Αυτήν την Αμερική εξετάζουμε σ' αυτό το μάθημα
6. Λίμνη της Νότιας Αμερικής
7. Ήρθαν ως κατακτητές στη Νότια Αμερική
8. Το όνομα του αξιωματικού Μπολιβάρ (αντίστροφα)
9. Κράτος της Νότιας Αμερικής στα παράλια του Ειρηνικού Ωκεανού (αντίστροφα)

Η Νότια Αμερική

9ο φύλλο αξιολόγησης

1. Να αντιστοιχίσετε τα στοιχεία της στήλης Α με τα στοιχεία της στήλης Β:

A

Μάτο Γκρόσσο

Ακονγκάουα

Μαρέχο

Μαρακαΐμπο

Κολομβία

Ίβηρες

B

Δέλτα Αμαζονίου

Ευρωπαίοι αποικιοκράτες

Βραζιλία

Άνδεις

Παραγωγή καφέ

Πετρελαιοπηγές

2. Υπογραμμίστε την πρόταση που θεωρείτε σωστή.

- α) Οι ακτές του νότιου άκρου της Νότιας Αμερικής παρουσιάζουν έντονο διαμελισμό.
- β) Στο βόρειο τμήμα της Νότιας Αμερικής υπάρχουν πολλές αξιόλογες λίμνες, που καθορίζουν τη χλωρίδα και την πανίδα της περιοχής.
- γ) Το λάμα είναι το χαρακτηριστικό ζώο των υψιπέδων της Νότιας Αμερικής.
- δ) Οι κάτοικοι της Νότιας Αμερικής κατάγονται κυρίως από τέσσερις φυλετικές ομάδες.
- ε) Το δάσος της Αμαζονίας βρίσκεται στο νοτιότερο άκρο της Νότιας Αμερικής.
- στ) Ένας σημαντικός λόγος για την καθυστέρηση της οικονομικής ανάπτυξης της Νότιας Αμερικής είναι η μεγάλη αύξηση του πληθυσμού.

3. Ανεβείτε την πυραμίδα βρίσκοντας τις λέξεις που κρύβονται στα κουτάκια της.

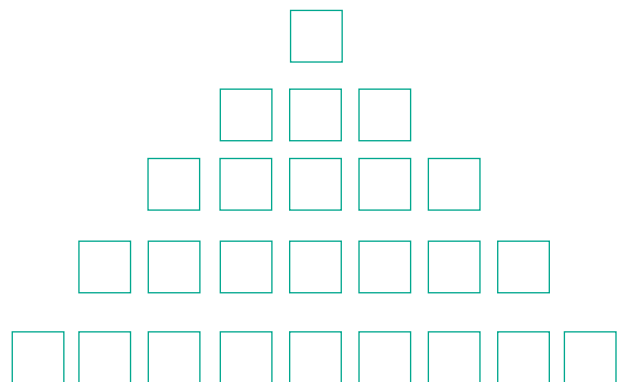
Ο ωκεανός προς τον οποίο
«αγναντεύουν» οι Άνδεις.

Αυτός ο ποταμός διαρρέει τα πάμπας.

Η ισπανική αυτή λέξη σημαίνει πριόνι.

... ντε Τζανέιρο: Σε αυτήν την πόλη γίνεται
το μεγαλύτερο καρναβάλι του κόσμου.

Το πρώτο γράμμα της μεγάλης οροσειράς
της Νότιας Αμερικής.



Καλή Επιτυχία!

Το φυσικό περιβάλλον της Ωκεανίας

Δραστηριότητες

1. Συμπλήρωσε τον χάρτη με τα ονόματα των κυριότερων γεωμορφολογικών στοιχείων (οροσειρές, ποταμοί, πεδιάδες).



Εικόνα 44.1: Γεωμορφολογικός χάρτης της Ωκεανίας

2. Σύνδεσε τις πόλεις με τα κράτη στα οποία ανήκουν:

Πόλεις

Μελβούρνη

Ουέλινγκτον

Πορτ Μόρεσμπυ

Σίντνεϊ

Κράτη

Παπούα – Νέα Γουινέα

Αυστραλία

Νέα Ζηλανδία

Αυστραλία

3. Τι κλίμα έχει καθεμία από τις παρακάτω περιοχές; Βρες το με τη βοήθεια του χάρτη.

Περιοχές	Κλίμα
Περιοχές Ισημερινού
Νέα Ζηλανδία
Εσωτερικό Αυστραλίας
Ακτές Αυστραλίας

4. Συμπλήρωσε την παρακάτω ακροστιχίδα. Τα αρχικά των λέξεων θα σχηματίσουν το όνομα των ανέμων που πνέουν στην ήπειρο.

1. _____
2. _____
3. _____
4. _____
5. _____
6. _____
7. _____
8. _____

1. Ποταμός της Αυστραλίας
2. Είναι η Μεγάλη Διαχωριστική
3. Οι πεδινές εκτάσεις της Αυστραλίας διακόπτονται από χαμηλού ύψους...
4. Είναι και η Πολυνησία ένα νησιωτικό...
5. Αυτή την ήπειρο εξετάζουμε σε αυτό το μάθημα
6. Είναι η Γουινέα, όπως και η Νέα Ζηλανδία
7. Ολόκληρη η Ωκεανία εκτείνεται σ' αυτόν τον ωκεανό
8. Εκτός από τον Ναό του έχει και... νησιά

Οι κάτοικοι και τα κράτη της Ωκεανίας

Δραστηριότητες

1. Υπογράμμισε τη σωστή πρόταση:

- α) Η Αυστραλία απέκτησε την ανεξαρτησία της πριν από περίπου 200 χρόνια.
- β) Η Νέα Ζηλανδία πραγματοποιεί εξαγωγές κρέατος σε σχεδόν όλο τον κόσμο.
- γ) Το υπέδαφος της Νέας Γουινέας είναι φτωχό σε ορυκτά.
- δ) Οι ιθαγενείς κάτοικοι της Αυστραλίας ήταν οι Αβορίγινες.
- ε) Οι περισσότεροι κάτοικοι της Νέας Ζηλανδίας είναι αγγλικής καταγωγής.

2. Παρατήρησε τον χάρτη και βρες σε ποιο γεωγραφικό πλάτος βρίσκονται οι παρακάτω πόλεις:

Καμπέρα:

Πορτ Μόρεσμπι:

Ουέλιγγκτον:

Άπια:

3. Ποιων κρατών πρωτεύουσες είναι οι παραπάνω πόλεις;

.....

.....

.....

.....

.....

.....

.....

.....

4. Συγκέντρωσε πληροφορίες – από τις πηγές που διαθέτεις – για τους Αβορίγινες, τους ιθαγενείς κατοίκους της Αυστραλίας.

.....

.....

.....

.....

.....

.....

.....


.....

.....

.....

.....

5. Μπορείς να βρεις μία φωτογραφία των Αβορίγινων; Αν ναι, τοποθέτησέ τη στο πλαίσιο που ακολουθεί.



Η Ωκεανία

10ο φύλλο αξιολόγησης

1. Απαντήστε στις ερωτήσεις που ακολουθούν:

α) Ποιο είναι το μεγαλύτερο νησί της Ωκεανίας;

.....

β) Πόσες νησιωτικές ενότητες περιλαμβάνει η Ωκεανία;

.....

γ) Πότε δημιουργήθηκε ως κράτος η Αυστραλία;

.....

δ) Γιατί η Αυστραλία θεωρείται η πιο ξηρή περιοχή του πλανήτη μας;

.....

ε) Ποια είναι τα πιο ανεπτυγμένα κράτη της Ωκεανίας;

.....

2. Αντιστοιχίστε τα στοιχεία της στήλης Α με τα στοιχεία της στήλης Β:



Αβορίγινες
Μουσσώνες
Νέα Γουινέα
Ανατολική Αυστραλία
Κάπταιν Κουκ



Πλούσιο υπέδαφος
Αποικιοκρατία
Μεγάλη Διαχωριστική Οροσειρά
Αυστραλία
Νησιά Ωκεανίας

3. Μελετήστε την παρακάτω παράγραφο και σχολιάστε τα θετικά στοιχεία της ζωής των ιθαγενών, που είναι προσαρμοσμένα στο φυσικό περιβάλλον. Υπάρχουν κατά τη γνώμη σας αρνητικά στοιχεία για τη ζωή τους;

«Στα χιλιάδες νησιά της Ωκεανίας κατοικούν ιθαγενείς λαοί, οι οποίοι ασχολούνται με την καλλιέργεια της γης, το κυνήγι, το ψάρεμα, την εξόρυξη ορυκτών και τον τουρισμό».

.....

.....

.....

.....

.....

.....

.....

.....

.....

4. Τοποθετήστε «Θ» στις προτάσεις που δηλώνουν θετικές καταστάσεις και «Α» στις προτάσεις που δηλώνουν αρνητικές καταστάσεις.

- Σχεδόν το ένα τρίτο της αυστραλιανής γης καλύπτεται από ερημικές εκτάσεις.
- Η Νέα Ζηλανδία πραγματοποιεί μεγάλες εξαγωγές κρέατος σε σχεδόν ολόκληρο τον κόσμο.
- Η Νέα Γουινέα διαθέτει πλούσιο υπέδαφος, που όμως αδυνατεί να το αξιοποιήσει.
- Οι Βρετανοί χρησιμοποίησαν τα εδάφη της Αυστραλίας σαν τόπο εξορίας.
- Η Νέα Ζηλανδία χαρακτηρίζεται από ωκεάνιο υγρό κλίμα χωρίς μεγάλες εποχικές μεταβολές στη θερμοκρασία.



Βάσει του ν. 3966/2011 τα διδακτικά βιβλία του Δημοτικού, του Γυμνασίου, του Λυκείου, των ΕΠΑ.Λ. και των ΕΠΑ.Σ. τυπώνονται από το ΙΤΥΕ - ΔΙΟΦΑΝΤΟΣ και διανέμονται δωρεάν στα Δημόσια Σχολεία. Τα βιβλία μπορεί να διατίθενται προς πώληση, όταν φέρουν στη δεξιά κάτω γωνία του εμπροσθόφυλλου ένδειξη «ΔΙΑΤΙΘΕΤΑΙ ΜΕ ΤΙΜΗ ΠΩΛΗΣΗΣ». Κάθε αντίτυπο που διατίθεται προς πώληση και δεν φέρει την παραπάνω ένδειξη θεωρείται κλεψίτυπο και ο παραβάτης διώκεται σύμφωνα με τις διατάξεις του άρθρου 7 του νόμου 1129 της 15/21 Μαρτίου 1946 (ΦΕΚ 1946,108, Α').

Απαγορεύεται η αναπαραγωγή οποιουδήποτε τμήματος αυτού του βιβλίου, που καλύπτεται από δικαιώματα (copyright), ή η χρήση του σε οποιαδήποτε μορφή, χωρίς τη γραπτή άδεια του Υπουργείου Παιδείας, Έρευνας και Θρησκευμάτων / ΙΤΥΕ - ΔΙΟΦΑΝΤΟΣ.

