

ΟΝΟΜΑ: _____

ΜΑΘΗΜΑΤΙΚΑ 9^η ΕΝΟΤΗΤΑ
Κεφ. 58 Οι αριθμοί μέχρι το 100 - Χρήμα

1. Ανεβαίνω 10 - 10 μέχρι το 100.

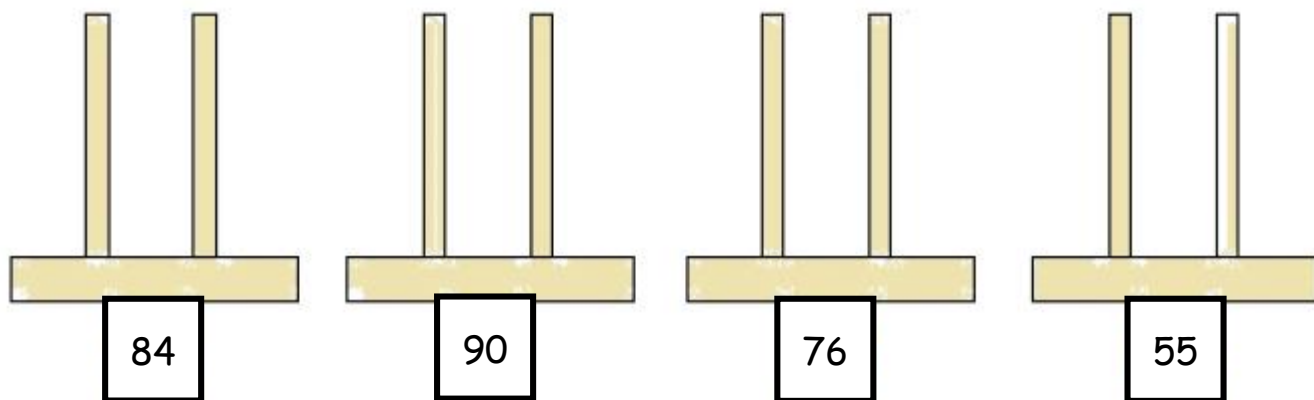


2. Πόσες δεκάδες και πόσες μονάδες έχει κάθε αριθμός;

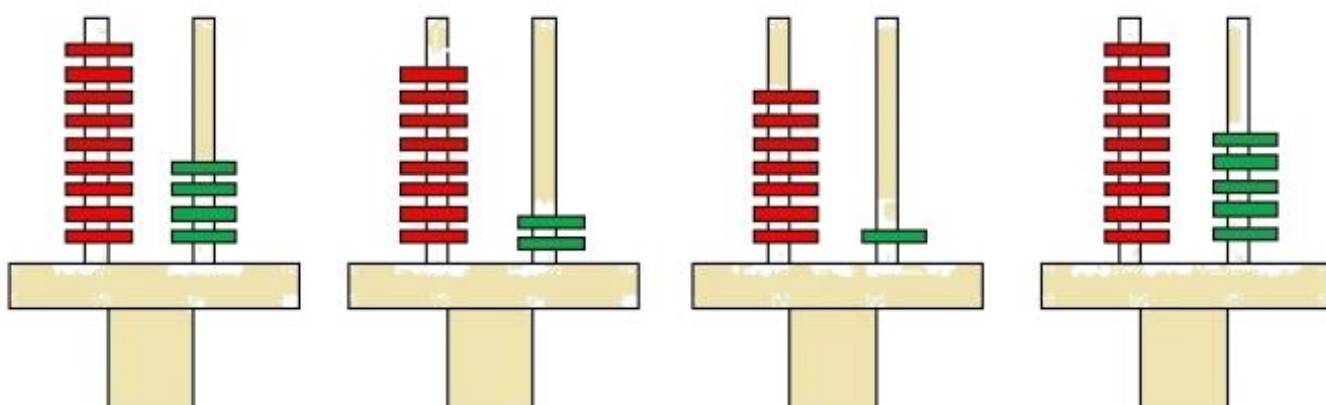
96 = ... Δ και ... Μ 87 = ... Δ και ... Μ

75 = ... Δ και ... Μ 69 = ... Δ και ... Μ


3. Φτιάχνω τους αριθμούς στους άβακες.



4. Γράφω τους αριθμούς που είναι σχηματισμένοι στους άβακες.



5. Γράφω τον αριθμό που είναι πριν και μετά.



6. Υπολογίζω τις προσθέσεις και τις αφαιρέσεις.

$50+20=$ _____ $90-20=$ _____
 $40+40=$ _____ $80-40=$ _____
 $60+30=$ _____ $70-30=$ _____
 $30+40=$ _____ $100-20=$ _____



Αν δυσκολεύεσαι κρύψε το 0 αλλά μην ξεχάσεις να το βάλεις στο τέλος του αριθμού που θα βρεις!

7. Πόσα χρήματα είμαι κάθε φορά;
